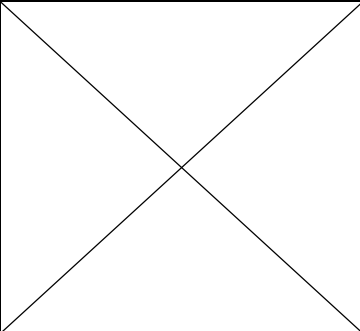
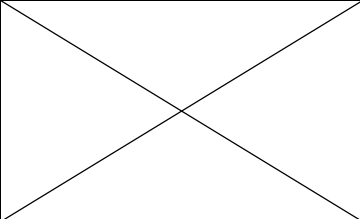
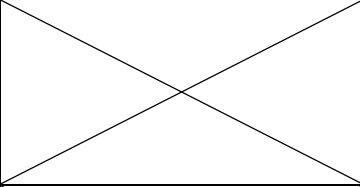
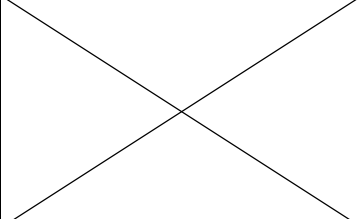
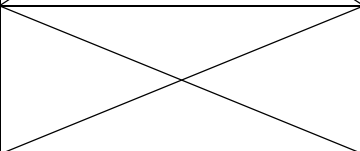
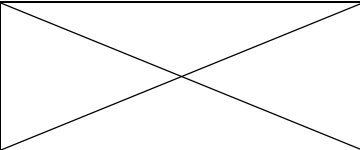

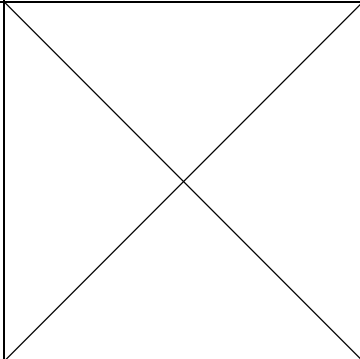



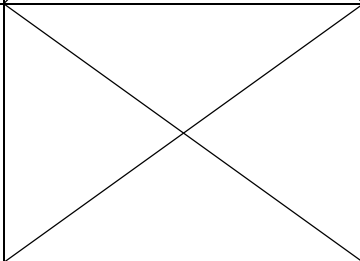



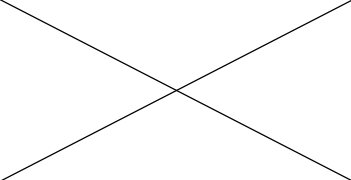
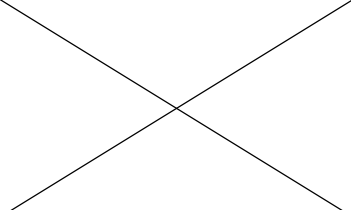



Основной список тестовых вопросов

Определения

1		<p>Выберите правильное определение «Велосипед»</p> <ol style="list-style-type: none"> 1. Транспортное средство, которое имеет по крайней мере два колеса. 2. Транспортное средство, кроме инвалидных колясок, которое имеет по крайней мере два колеса и приводится в движение как правило при помощи электродвигателя 3. Транспортное средство, кроме инвалидных колясок, которое имеет по крайней мере два колеса и приводится в движение как правило мускульной энергией лиц, находящихся на этом транспортном средстве, при помощи педалей или рукояток и может также иметь электродвигатель 4. Транспортное средство, кроме инвалидных колясок, которое имеет по крайней мере два колеса и приводится в движение как правило мускульной энергией лиц 	3
2		<p>«Велосипедная дорожка» — это?</p> <ol style="list-style-type: none"> 1. Предназначенная для движения велосипедистов 2. Конструктивно отделенный от проезжей части и тротуара элемент дороги 3. Конструктивно отделенный от проезжей части и тротуара элемент дороги (либо отдельная дорога), предназначенный для движения велосипедистов и лиц, использующих для передвижения средства индивидуальной мобильности 	3
3		<p>«Недостаточная видимость» — это?</p> <ol style="list-style-type: none"> 1. Видимость дороги в ночное время суток. 2. Видимость дороги менее 1км в снегопад, дождь, туман. 3. Видимость дороги менее 300 м в условиях тумана, дождя, снегопада и тому подобного, а также в сумерки. 	3
4		<p>Что означает термин «Ограниченная видимость»?</p> <ol style="list-style-type: none"> 1. Видимость дороги менее 300м в условиях тумана, дождя, снегопада, а также в сумерки. 2. Видимость водителем дороги менее 150 м в ночное время 3. Видимость водителем дороги, ограниченная рельефом местности, геометрическими параметрами дороги, растительностью, строениями, сооружениями или другими объектами 4. Видимость водителем дороги во всех перечисленных случаях 	3
5		<p>Какое пространство называют «слепой зоной автомобиля»?</p> <ol style="list-style-type: none"> 1. Вокруг машины, не контролируемое водителем ни с помощью собственного зрения, ни в зеркала. 2. Вокруг машины, не контролируемое водителем в зеркала. 3. Сзади машины, не контролируемое водителем в зеркала или с помощью собственного зрения. 	1

6		<p>Что такое «кикшеринг»?</p> <ol style="list-style-type: none"> 1. Краткосрочная аренда автомобиля с помощью мобильного приложения. 2. Краткосрочная аренда электросамокатов с помощью мобильного приложения. 3. Краткосрочная аренда электросамокатов. 	2
Дорожные знаки			
7		<p>Что означает данный знак?</p> <ol style="list-style-type: none"> 1. Только велосипедистам. 2. Велосипедистам и владельцам средств индивидуальной мобильности (СИМ). 3. Велосипедистов и мопедов 	3
8		<p>Какой из дорожных знаков был утверждён ПДД в 2024 году?</p> <div style="display: flex; justify-content: space-around; align-items: center; margin-top: 20px;"> <div style="text-align: center;">  1 </div> <div style="text-align: center;">  2 </div> <div style="text-align: center;">  3 </div> </div>	1
9		<p>Какой группы дорожных знаков не существует?</p> <ol style="list-style-type: none"> 1. Предупреждающие. 2. Приорита. 3. Запрещающие. 4. Информационные. 5. Предписывающие. 6. Другой ответ 	6 (Все знаки существуют)

10		<p>Что означает эта табличка?</p> <ol style="list-style-type: none"> 1. Никакое 2. Международная медицинская помощь 3. Разрешено движение только по выходным и праздничным дням 	3
11		<p>Данный дорожный знак разрешает движение:</p> <ol style="list-style-type: none"> 1. Пешеходам и велосипедистам. 2. Пешеходам, велосипедистам и владельцам средств индивидуальной мобильности (СИМ). 3. Пешеходам, велосипедистам и владельцам средств индивидуальной мобильности (СИМ) с преимуществом велосипедистов и владельцев СИМ. 	2
12		<p>Какое значение имеет этот знак?</p> <ol style="list-style-type: none"> 1. Запрещает движение на средствах индивидуальной мобильности. 2. Запрещает движение владельцам средств индивидуальной мобильности. 3. Запрещает движение на самокатах и (или) электросамокатах. 4. Запрещает движение владельцам на самокатах и (или) электросамокатах. 	1
Пешеход			
13		<p>В каких случаях пешеходы могут передвигаться организованными пешими колоннами?</p> <ol style="list-style-type: none"> 1. Передвигаться по правой стороне с сопровождающими. 2. Только по правой стороне. 3. Направляющий и замыкающий должны быть сопровождающие. 4. Не имеет никакого другого значения. 	1
14		<p>В местах, где движение регулируется регулировщиком, чем должны руководствоваться пешеходы?</p> <ol style="list-style-type: none"> 1. Ничем. 2. Если на дороге отсутствует транспортное средство, то перейти дорогу. 3. Сигналам регулировщика. 	3

15		<p>Являются ли тротуары, обочины частью дороги?</p> <ol style="list-style-type: none"> 1. Являются 2. Являются только обочины 3. Не являются 	1
16		<p>Выберете несколько вариантов ответа*</p> <p>Какие группы пешеходов, двигаясь по краю проезжей части, должны следовать по ходу движения транспортных средств?</p> <ol style="list-style-type: none"> 1. Лица, передвигающиеся в инвалидных колясках. 2. Лица, ведущие мотоцикл, мопед и велосипед. 3. Лица, ведущие только мотоцикл, мопед и велосипед. 4. Лица, ведущие средство индивидуальной мобильности. 5. Никакие, все пешеходы обязаны двигаться навстречу движению транспортных средств. 	1, 2, 4
17		<p>Пешеход при наличии знака «Пешеходный переход»:</p> <ol style="list-style-type: none"> 1. Имеет преимущество при переходе проезжей части, но только при отсутствии светофора или регулировщика. 2. Имеет преимущество при переходе проезжей части, но только при разрешающем сигнале светофора или регулировщика. 3. Имеет преимущество при переходе проезжей части, но только вне населенных пунктов. 4. Не имеет преимуществ при переходе проезжей части. 	1
18		<p>С какого возраста можно арендовать электросамокат в сервисе кикшеринг?</p> <ol style="list-style-type: none"> 1. С 14 лет. 2. С 16 лет. 3. С 18 лет. 	3
Пассажир			
19		<p>Выберете несколько вариантов ответа*</p> <p>Пассажиры обязаны:</p> <ol style="list-style-type: none"> 1. При поездке в транспортном средстве быть пристёгнутыми штатными ремнями безопасности и (или) при помощи детских удерживающих устройств, соответствующих возрасту и весу ребёнка. 2. При поездке в транспортном средстве быть пристёгнутыми штатными ремнями безопасности и (или) при помощи детских удерживающих устройств, соответствующих весу и росту ребёнка. 3. Производить посадку и высадку только со стороны тротуара или обочины. 4. Производить посадку и высадку с любой стороны после полной остановки транспортного средства, при условии, что это будет безопасно и не создаст помех другим участникам движения. 5. Производить посадку и высадку со стороны тротуара или обочины и только после полной остановки транспортного средства. 	2, 5, 6

	6. Производить посадку и высадку со стороны проезжей части при условии, если это невозможно со стороны тротуара или обочины, и если это будет безопасно и не создаст помех другим участникам движения.	
20	С правильно нужно сесть в автомобиль, если посадка справа затруднена? 1. Подождать, пока не освободиться правая сторона 2. Обойти автомобиль сзади 3. Обойти автомобиль спереди	3
21	В каком случае разрешается посадка и высадка пассажиров со стороны проезжей части? 1. При вынужденной остановке транспортного средства. 2. По усмотрению водителя при условии, что это будет безопасно и не создает помех другим участникам движения. 3. Если это невозможно сделать со стороны тротуара или обочины и при условии, что это будет безопасно и не создает помех другим участникам движения. 4. На дорогах с односторонним движением, имеющим две полосы или более.	3
22	В каком возрасте допускается перевозка детей на велосипеде в детском велокресле? 1. С 9 месяцев до 4 лет. 2. С 1 года до 4 лет. 3. С 9 месяцев до 6 лет. 4. С 1 года до 6 лет. 5. С 1 года до 5 лет.	1
23	С 1 марта 2023 года в ПДД РФ внесены изменения, согласно которым: 1. Самокат рассчитан строго на одного пассажира. 2. Самокат рассчитан на одного взрослого пассажира и ребёнка, возраст которого не достиг 7 лет. 3. Самокат рассчитан на одного взрослого пассажира и ребёнка, возраст которого не достиг 5 лет. 4. Самокат рассчитан на одного взрослого или ребёнка в возрасте от 14 лет, а также второго ребёнка, возраст которого не достиг 7 лет.	1
24	Является ли человек пассажиром, стоя на остановке? 1. Да, является. 2. Нет, не является 3. Да, является, если ждёт автобус.	3
Первая помощь		
25	На какой артерии проводится оценка кровообращения у пострадавшего при ДТП? 1. На сонной. 2. На бедренной.	3

	3. На сонной или бедренной.	
26	<p>Как следует расположить руки на грудной клетке пострадавшего при проведении сердечно-легочной реанимации?</p> <p>1. Основания ладоней обеих кистей, взятых в «замок», должны располагаться на грудной клетке на два пальца выше мечевидного отростка так, чтобы большой палец одной руки указывал в сторону левого плеча пострадавшего, а другой – в сторону правого плеча. Руки выпрямляются в локтевых суставах.</p> <p>2. Основание ладони одной руки накладывают на середину грудной клетки на два пальца выше мечевидного отростка, вторую руку накладывают сверху, пальцы рук берут в замок. Руки выпрямляются в локтевых суставах, большие пальцы рук указывают на подбородок и живот. Надавливания должны проводиться без резких движений.</p> <p>3. Давление руками на грудину выполняют основанием ладони одной руки, расположенной на грудной клетке на два пальца выше мечевидного отростка. Рука выпрямлена в локтевом суставе. Направление большого пальца не имеет значения.</p>	3
27	<p>Установите правильную последовательность действий при оказании первой помощи пострадавшему при растяжениях кистей и стоп:</p> <p>А. Вызвать скорую медицинскую помощь.</p> <p>Б. Наложить давящую повязку.</p> <p>В. Обеспечить покой повреждённому участку.</p> <p>Г. Ослабить боль и отёк, приложив лед (бутылку воды, банку газировки, упаковку мороженого и т.д.) к месту растяжения.</p>	1 – Г 2 – Б 3 – В 4 – А
28	<p>Действия по оказанию первой помощи при разных видах кровотечений</p> <p>Соотнеси первую помощь с видом кровотечения:</p> <p>А. Накладывается давящая тугая повязка на рану (при этом прикладывается сверху ватно-марлевый тампон, или можно использовать для тампона чистое полотенце), пострадавшая конечность приподнимается.</p> <p>Б. Накладывается стерильная (асептическая) повязка на рану.</p> <p>В. Пережимается (сдавливается) крупный кровеносный сосуд выше раны пальцами (или кулаком), с последующим наложением жгута, закрутки или резкое сгибание конечности в суставе с фиксацией ее в таком положении.</p> <p>Типы кровотечений</p> <p>1. Капиллярное</p> <p>2. Венозное</p> <p>3. Артериальное</p>	2 – А 1 – Б 3 – В
29	<p>Каковы признаки вывиха в суставе?</p> <p>А. Боль, изменение формы сустава, неправильное положение конечности, отсутствие движений в суставе.</p> <p>Б. Боль, припухлость, патологическая подвижность сустава.</p> <p>В. Боль, покраснение кожных покровов в области сустава, припухлость, высокая температура тела.</p>	А

30	<p>Установи правильную последовательность действий при оказании первой медицинской помощи тем, чья жизнь после ДТП находится под угрозой:</p> <p>А. Восстанови дыхание и сердечную деятельность путем применения искусственного дыхания и непрямого массажа сердца. Б. Наложил герметизирующую повязку на грудную клетку при проникающем ранении. В. Обеспечил проходимость верхних дыхательных путей Г. Определил наличие пульса, самостоятельного дыхания, реакции зрачков на свет. Д. Остановил наружное кровотечение. Е. Убедился, что тебе и пострадавшему ничто не угрожает. Вынеси (выведи) пострадавшего в безопасную зону.</p>	1-Е 2-Г 3-В 4-А 5-Д 6-Б
----	--	--